



U.T. P.

SEMANA 34 DEL 23 AL 27 NOVIEMBRE
EVALUACION FORMATIVA IV DE CIENCIAS
TERCEROS AÑOS BASICOS



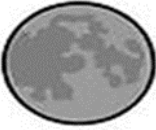



Nombre:		Apellidos:		RUN:	Curso: 3° año Letra:
Fecha: Noviembre 2020	60% de exigencia	Pje. máximo: Pts. 10	Pje. Aprobatorio: Pts. 6	Pje. Obtenido	Nota:

Objetivo: OA12 Identificar los movimientos de rotación y traslación, considerando sus efectos en la Tierra.

OA11 Identificar las fases de la luna.

INSTRUCCIONES

I.- Marca con una X la alternativa que corresponda.

<p>1.- ¿Cómo se explica que en estos momentos en algunos países sea de día y en otros sea de noche?</p> <p>a. Por el movimiento rectilíneo que realiza la Tierra. b. Por el movimiento de rotación que realiza la Tierra. c. Por el movimiento de traslación que realiza la Tierra.</p>	<p>2.- Movimiento que la Tierra hace sobre su propio eje y dura 24 horas.</p> <p>a. Rotación b. Traslación c. ambas</p>
<p>3.- Movimiento que realiza la Tierra alrededor del Sol que dura 365 días.</p> <p>a. Rotación b. Traslación c. ambas</p>	<p>4.- El movimiento de rotación genera:</p> <p>a. El día y la noche. b. Las estaciones del año c. ninguna de las anteriores</p>
<p>5.- El movimiento de traslación origina:</p> <p>a. El frío y la lluvia. b. Los días de la semana. c. Las estaciones del año.</p>	<p>6.- ¿Cuál de las siguientes características diferencia a la Tierra de la Luna?</p> <p>a. La Luna tiene luz propia y la Tierra no. b. La Luna es más grande que la Tierra. c. La Tierra es un planeta y la Luna es un satélite.</p>
<p>7.- ¿Qué fase de la luna se muestra?</p> <p>a. Luna nueva b. Luna llena c. luna creciente</p> 	<p>8.- ¿Qué fase de la luna se muestra?</p> <p>a. Luna nueva b. Luna menguante c. Luna creciente</p> 
<p>9.- ¿Qué fase de la luna se muestra?</p> <p>a. Luna nueva b. Luna llena c. Luna creciente</p> 	<p>10.- ¿Qué fase de la luna se muestra?</p> <p>a. Luna nueva b. Luna llena c. Luna creciente</p> 

HOJA DE RESPUESTA EVALUACIÓN FORMATIVA IV CIENCIAS

En esta hoja de respuesta debes escribir la **letra de la alternativa correcta** y sacar una foto para enviarla al wasap de tu profesora. **RECUERDA ESCRIBIR EL NOMBRE**

NOMBRE: _____

3° año _____

PREGUNTA	LETRA
1.-	
2.-	
3.-	
4.-	
5.-	
6.-	
7.-	
8.-	
9.-	
10.-	



Un abrazo para ti por tu esfuerzo y trabajo durante este año

