



Semana 34 del 23 al 27 de Noviembre.
Evaluación Formativa N°4: Historia- Primeros básicos 2020

Nombres:		Apellidos:		RUN:	Curso: Letra:
Fecha:	60% de exigencia	Puntaje Máximo: 12 pts.	Puntaje Aprobatorio: 7 pts.	Puntaje Obtenido	Nota:

OA 9: Identificar a Chile en mapas, incluyendo la cordillera de los Andes, el Océano Pacífico, su región, su capital y su localidad.

OA 12: Conocer cómo viven otros niños en diferentes partes del mundo por medio de imágenes y relatos, ubicando en un globo terráqueo o mapamundi los países donde habitan, y comparando su idioma, vestimenta, comida, fiestas, costumbres y principales tareas con las de niños chilenos.

Objetivo: Identificar y reconocer Chile en el mapa.

Conocer cómo viven otros niños en diferentes partes del mundo, comparando su idioma, vestimenta, comida, fiestas, costumbres y principales tareas con las de niños chilenos.

Indicadores: Localizan Chile en un mapa.

Ubican en un mapa la capital de Chile.

Ubican la cordillera de los Andes y el Océano Pacífico.

Reconocen la bandera de Chile como símbolo patrio.

Comparan un día en sus vidas con la de un niño de otro país.

Comparan su idioma con el de otros lugares del mundo.

Instrucciones:

- 1- La evaluación deberá realizarse por el estudiante en compañía de un adulto, quien deberá leerle las instrucciones.
- 2- Una vez seleccionada la respuesta correcta deberá hacer clic en ella.
- 3- No debe saltarse ninguna pregunta. Todas las preguntas deben responderse obligatoriamente.
- 4- Una vez terminada la prueba, debe hacer clic en el botón "enviar". Le llegará una copia de la evaluación contestada al correo ingresado, donde podrá ver el puntaje obtenido y la corrección de esta evaluación.

I. Selección múltiple.

Marca la letra de la alternativa correcta

1. ¿Cuál es el mapa que muestra el continente dónde se ubica Chile?

a)

	7
--	----------



b)



c)



2. El globo terráqueo que destaca a Chile es:

a)



b)



c)



3- Los países con los que limita Chile son:

- A) Perú, Bolivia y Argentina.
- B) Uruguay, Brasil y Colombia.
- C) Venezuela, Colombia y Haití

4- La capital de Chile es Santiago y se ubica en la región Metropolitana. ¿Cuál mapa tiene señalada la región Metropolitana?

A)



B)



C)



5-El Océano Pacífico es el más extenso del planeta, cubre el 46% de la superficie de la Tierra. Estas aguas bañan a Chile:


- A) Desde el norte al sur por el lado oeste
- B) Desde el norte al sur por el lado este.
- C) Desde este a oeste por el sur.

6. La bandera de Chile es:


A)



B)



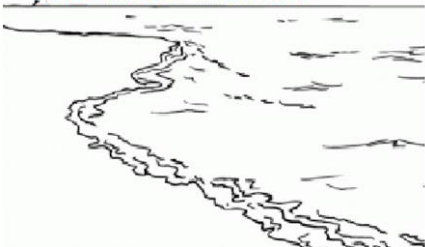
C)



7. Es una cadena montañosa de Sudamérica que se extiende casi paralela a la costa del Pacífico, desde el cabo de Hornos hasta las proximidades de Panamá. La definición corresponde a:

A)

Océano Pacífico



B)

Cordillera de los Andes



C)

Océano Atlántico



Verdadero o Falso.

Escribe una **V** si el enunciado es verdadero y una **F** si es falso.

1. _____ Todos los niños tienen las mismas costumbres y tradiciones sin importar el país en el que viven.
2. _____ Los niños del mundo tienen diferencias culturales como idioma, religión y vestimenta.
3. _____ Las personas que viven en china hablan inglés.
4. _____ En algunos países de mundo, algunas mujeres deben cubrirse el rostro.
5. _____ La lengua materna más hablada en el mundo es el chino mandarín.