

¡Bienvenidos, apoderados y estudiantes!

ORIENTACIONES PARA TRABAJAR SEMANA N° 28

12 al 16 de Octubre.

GUÍA N° 23  
“GEOMETRÍA”

**Profesor (a):** María Magdalena Lara

**Jessica Espinoza**


**Educadora P.I.E.:** Paula Guirin Fuenzalida

**Objetivo: OA 14.** Identificar en el entorno figuras 3D y figuras 2D y relacionarlas, usando material concreto.

**Habilidad:** Identificar y relacionar.

**Indicadores:**

- › Muestran diferencias que se dan entre dos figuras 2D.
- › Clasifican figuras 2D y explican el criterio de clasificación usado.
- > Ubican la posición de un objeto.





## ESTIMADAS FAMILIAS:

Junto con saludar y esperando se encuentren muy bien de salud, dada la situación actual mundial y nacional que estamos viviendo y con el propósito de seguir facilitando el acceso a la educación de nuestros estudiantes, les dejamos las siguientes orientaciones para la realización de las actividades en el hogar.




## **ORIENTACIÓN PADRES Y APODERADOS:**



### ▪ Algunos consejos antes de comenzar a realizar el trabajo pedagógico de la semana:

- ❖ *La actividad deber ser realizada con un adulto responsable que acompañe al niño, con el fin de **guiar y facilitar su comprensión**.*
- ❖ *Puede realizar el trabajo pedagógico en el cuaderno correspondiente a la asignatura, esto en el caso de no contar con el libro de estudio.*
- ❖ *Es importante transcribir el objetivo y fecha en el cuaderno.*
- ❖ *Leer bien los enunciados y las veces que sean necesarias, esto es muy importante.*
- ❖ *Si el niño no comprende la instrucción, inténtalo nuevamente ocupando otra estrategia.*
- ❖ *Responder lo que se pide y tratar de no dejar respuestas en blanco.*
- ❖ *Cuidar la presentación.*
- ❖ *Si es necesario pueden utilizar algún material que tengan en casa que pueda ayudar, como porotos, fichas, cubos, láminas, etc.*

# RECORDEMOS LO TRABAJADO



# ¿Cuáles son las figuras 2D?


Cuadrado	Triángulo	Rectángulo	Círculo
			

Son figuras geométricas planas, formadas por líneas rectas cerradas Y línea curva cerrada. A estas figuras se les llaman planas porque parecieran que estuvieran acostadas sobre el papel.

El cuadrado, el triángulo y el rectángulo son **figuras geométricas** planas, formadas por líneas rectas cerradas. El círculo también es una figura plana pero a diferencia de las anteriores está formado por una línea curva cerrada.

# OBSERVA EL VIDEO Y COMENTA CON UN ADULTO

Descubre todos los elementos donde podemos encontrar figuras geométricas 2 D




Para esta actividad les  
recomendamos el siguiente link.



<https://www.youtube.com/watch?v=SXONzObzFk0>

OBSERVA EL VIDEO Y COMENTA CON UN ADULTO:

Algunas de las características de la figuras presentadas

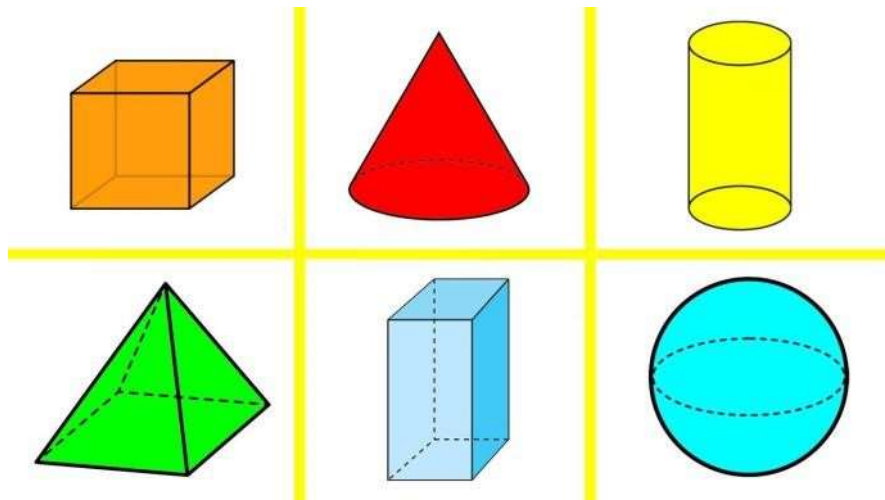


Para esta actividad les recomendamos el siguiente link.



<https://www.youtube.com/watch?v=sxXn2Z6dqHc>

# ¿Cuáles son las figuras 3D?




Los cuerpos geométricos son **figuras** geométricas de tres dimensiones (largo, ancho y alto), que ocupan un lugar en el espacio y en consecuencia tienen un volumen.; y están compuestos por **figuras** geométricas



OBSERVA EL VIDEO Y COMENTA CON UN ADULTO:


Algunas de las características de la figuras  
presentadas



Para esta actividad les  
recomendamos el siguiente link.

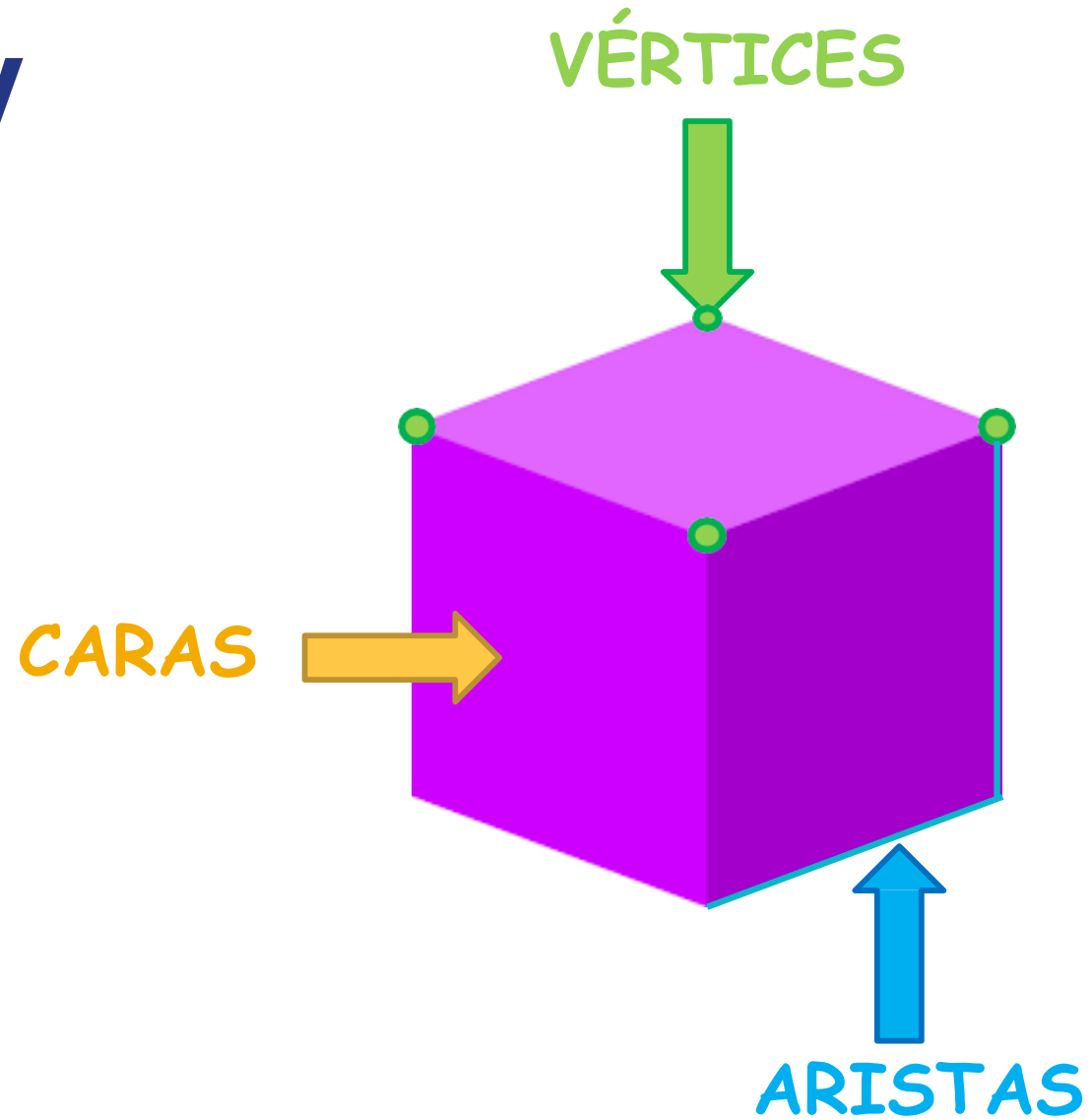


<https://www.youtube.com/watch?v=5GLduNQ5kA4>




# Características de las figuras 3D

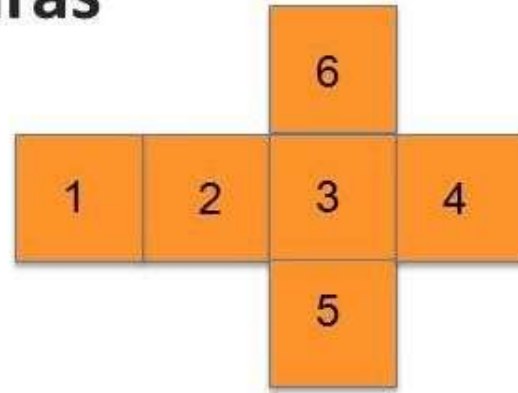
# Caras, vértices y aristas



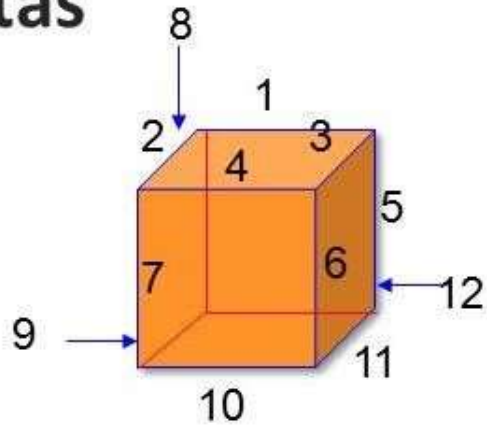
## Cubo



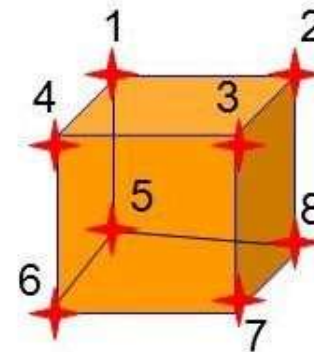
## Caras




## Aristas



## Vértices





**YA ESTAMOS LISTOS PARA TRABAJAR EN LA  
ACTIVIDAD DE LA SEMANA.**

Para realizar nuestra misión, nos iremos a la  
GUÍA DE TRABAJO PEDAGÓGICA:

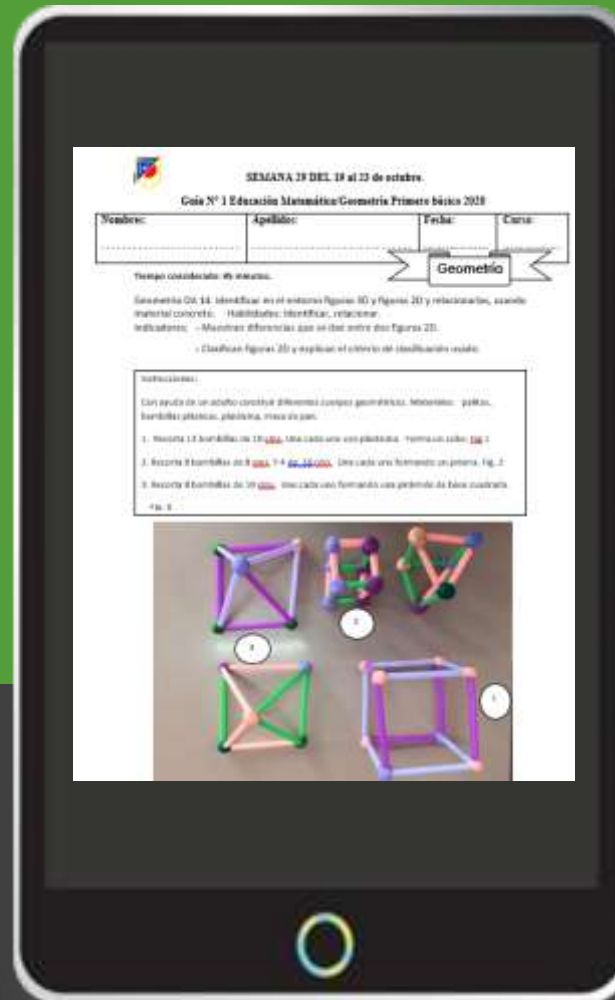
**“Semana 28 del 12 al 16 de Octubre.  
Guía N° 23 Geometría - Primero Básico 2020”**

Pueden descargar la guía de trabajo pedagógico en el siguiente link:

<http://www.colegio-moisesmussa.cl/D-6/index.php/primero-basico>

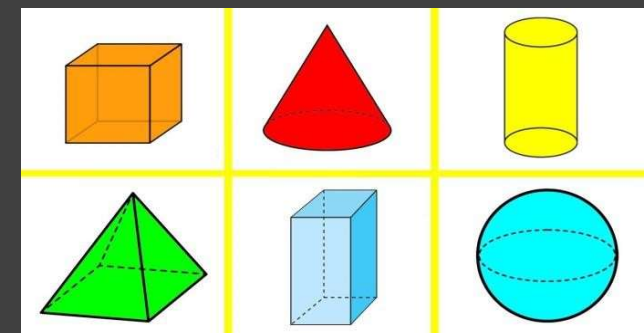
- En el caso de **no poder imprimir las páginas,** pueden copiar las actividades en el cuaderno y desarrollarlas.

# ➤ La guía para TRABAJAR es :



**Recuerda**

Los cuerpos geométricos son **figuras geométricas de tres dimensiones** (largo, ancho y alto), que ocupan un lugar en el espacio y en consecuencia tienen un volumen.; y están compuestos por **figuras geométricas**



¡FELICITACIONES HICISTE UN EXCELENTE TRABAJO!





# ¿Alguna pregunta?



Resuelvan dudas con sus profesores vía telefónica , WhatsApp o al correo:

Profesor (a): **María Magdalena Lara**

**Jessica Espinoza**


CORREOS: [mariamagdalena.lara@colegio-moisesmussa.cl](mailto:mariamagdalena.lara@colegio-moisesmussa.cl)

[jessica.espinoza@colegio-moisesmussa.cl](mailto:jessica.espinoza@colegio-moisesmussa.cl)

**También con su profesora P.I.E vía telefónica , WhatsApp o al correo:**

**Educadora P.I.E.:**

**Paula Guirin Fuenzalida**



**Correo:**

**[paula.guirin@colegio-moisesmussa.cl](mailto:paula.guirin@colegio-moisesmussa.cl)**



# UN ABRAZO VIRTUAL A CUIDARSE

