



SEMANA 26 DEL 28 SEPTIEMBRE AL 2 OCTUBRE
EVALUACION FORMATIVA III DE MATEMÁTICA
TERCEROS AÑOS BASICOS




U.T. P.

Nombre:		Apellidos:		RUN:	Curso: 3° año Letra:
Fecha: Septiembre 2020	60% de exigencia	Pje. máximo: Pts. 10	Pje. Aprobatorio: Pts. 6	Pje. Obtenido	Nota:



Objetivo: OA7 Resuelven problemas matemáticos aplicando adición y sustracción
OA15 Demostrar que comprenden la clasificación de líneas y rectas

INSTRUCCIONES

Observa

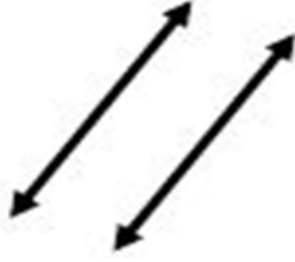


- I.- Los niños del tercer año A, B y C fueron a una feria de juguetes
II.- Marca con una X la alternativa que corresponda.

<p>1.- Miguel se compra en la feria, el balde y la pelota. ¿Cuánto dinero gasta en total Miguel? a) \$128 b) \$328 c) \$1.028</p>	<p>2.- Mateo paga el caballito con \$600. ¿Cuánto dinero recibe de vuelto Mateo? a) \$200 b) \$2 c) \$20</p>
<p>3.- Mauricio compra 7 cajas de lápices de colores para sus amigos compañeros. ¿Cuánto dinero gasta en total Mauricio? a) \$70 b) \$100 c) \$700</p>	<p>4.- Alfredo tiene \$200 para comprar la pelota. ¿Cuánto dinero le falta para comprarla? a) \$350 b) \$150 c) \$15</p>
<p>5.- Isaac compra la pelota y los lápices de colores. Si paga con \$500 ¿Cuánto recibe de vuelto? a) \$50 b) \$500 c) \$450</p>	<p>6.- ¿Cuánto más caro es el balde que la pelota? a) \$328 b) \$350 c) \$1.028</p>
<p>7.- En la siguiente imagen, es una figura con: a) líneas rectas b) líneas curvas c) líneas rectas y curvas</p> 	<p>8.- La siguiente recta es: a) paralela b) secante c) perpendicular</p> 

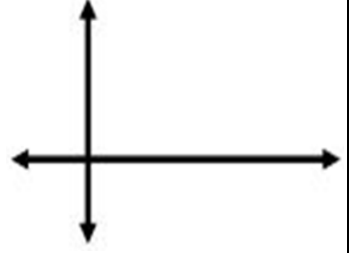
9.- La siguiente recta es:

- a) paralela
- b) secante
- c) perpendicular



10.- La siguiente recta es:

- a) paralela
- b) secante
- c) perpendicular



HOJA DE RESPUESTA EVALUACIÓN FORMATIVA III MATEMÁTICA

En esta hoja de respuesta debes escribir la **letra de la alternativa correcta** y sacar una foto para enviarla al wasap de tu profesora. **RECUERDA ESCRIBIR EL NOMBRE**

NOMBRE: _____

3° año _____

PREGUNTA	LETRA
1.-	
2.-	
3.-	
4.-	
5.-	
6.-	
7.-	
8.-	
9.-	
10.-	

