



U.T. P.

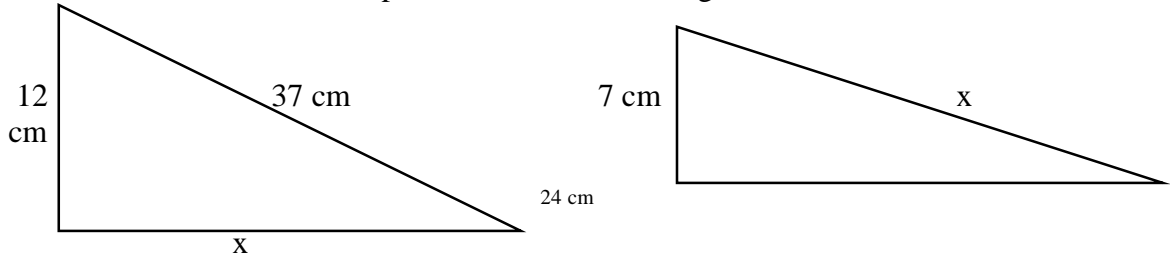
**SEMANA N° 25 DEL 21 AL 25 DE SEPTIEMBRE**  
**GUÍA N°20 DE GEOMETRIA 8° BÁSICO 2020**  
**Retroalimentación contenidos para prueba formativa 3**

|          |            |        |        |
|----------|------------|--------|--------|
| Nombres: | Apellidos: | Curso: | Fecha: |
|----------|------------|--------|--------|

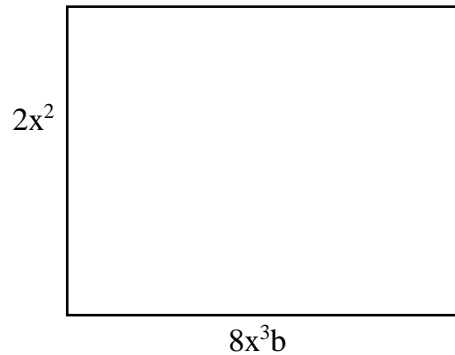
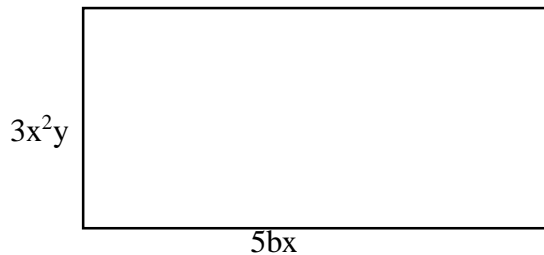
**OBJETIVO DE APRENDIZJE: Retroalimentar contenidos para prueba formativa 3**  
**HABILIDAD: Resolución de problemas.**

**PROFESORES: FRANCISCO CORRE A JARA.**



1. Encuentra el valor de X aplicando teorema de Pitágoras.



- 2.- Determina el perímetro de los rectángulos.



- 3.- Determina el área de los cuadrados.



- 4.- Un terreno rectangular que mide 13 metros ancho y 84 metros de largo.

¿Cuánto mide su diagonal?