



SEMANA 25 DEL 21 AL 25 SEPTIEMBRE  
GUÍA DE GEOMETRÍA TERCERO BASICO 2020  
REFORZAMIENTO LINEAS Y RECTAS



Nombres: .....	RUN: .....	Curso: 3° Letra: .....	Fecha:.....
-------------------	---------------	---------------------------	-------------

Tiempo estimado: 90 minutos

Objetivo: OA15 Demostrar que comprenden la clasificación de líneas y rectas

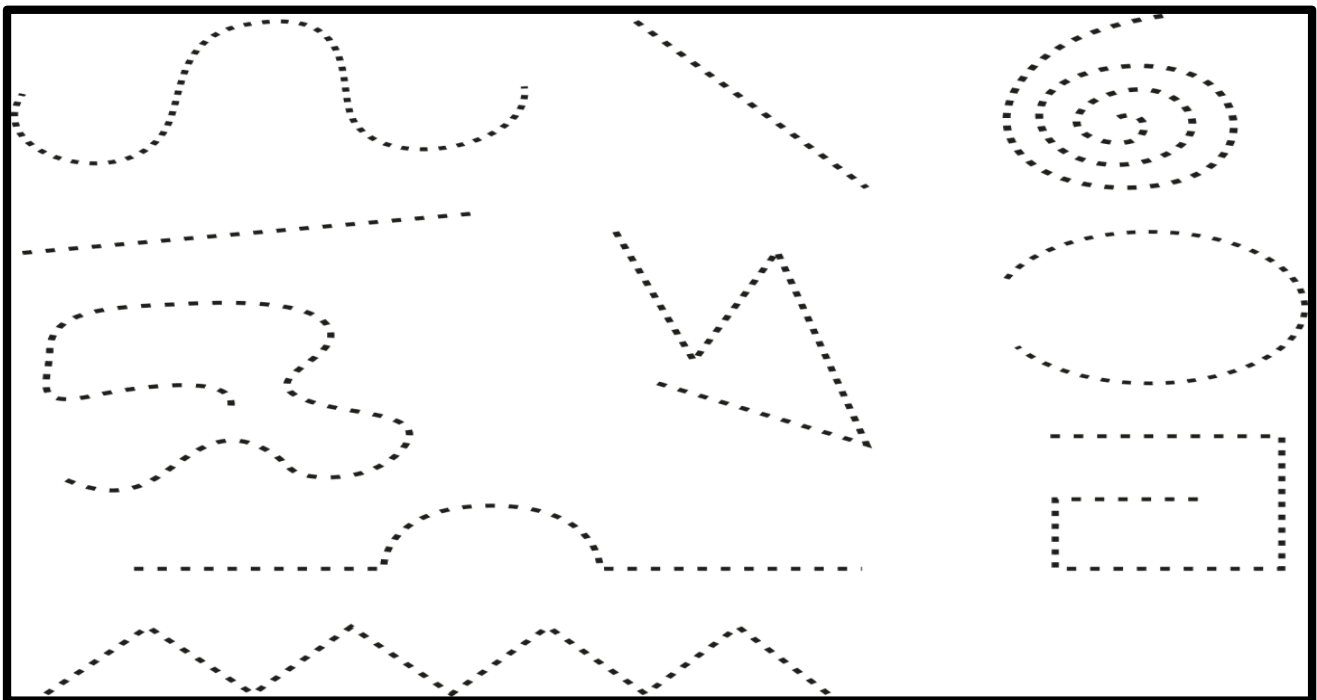
Estándar: EM29 Serán capaces de seguir y describir trayectorias en el plano con dos o más cambios de desplazamiento;

Habilidad: Representar y resolver problemas

Indicador: Identifican las líneas curvas y líneas rectas. - Identifican líneas curvas, líneas rectas abiertas y cerradas.

ACTIVIDADES: LÍNEAS RECTAS Y CURVAS.






1. Remarca de color rojo las líneas rectas y de color azul las líneas curvas.








II.- Marca con un X la casilla donde está la figura correcta.

Indica cuál de estas líneas NO es abierta.				
<input type="checkbox"/>	<input type="checkbox"/>	<input type="checkbox"/>	<input type="checkbox"/>	<input type="checkbox"/>
Indica cuál de estas líneas es abierta.				
<input type="checkbox"/>	<input type="checkbox"/>	<input type="checkbox"/>	<input type="checkbox"/>	<input type="checkbox"/>

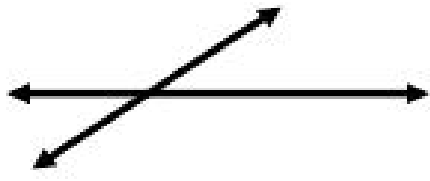
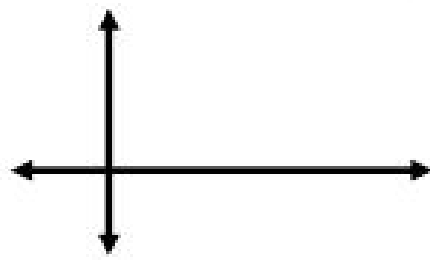


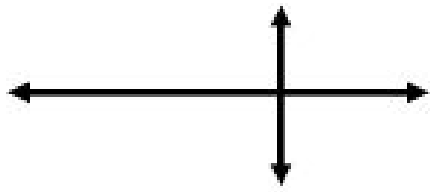
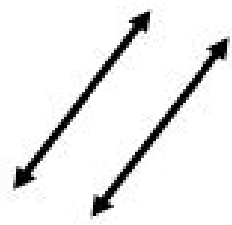

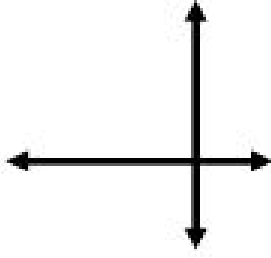
Indica cuál de estas figuras está formada sólo por líneas rectas.

				
<input type="checkbox"/>	<input type="checkbox"/>	<input type="checkbox"/>	<input type="checkbox"/>	<input type="checkbox"/>

Indica cuál de estas figuras está formada por líneas rectas y curvas.

				
<input type="checkbox"/>	<input type="checkbox"/>	<input type="checkbox"/>	<input type="checkbox"/>	<input type="checkbox"/>

III.- Clasifica las siguientes rectas en: paralelas, secantes y perpendiculares.

1. 	2. 
_____	_____
3. 	4. 
_____	_____
5. 	6. 
_____	_____
7. 	8. 
_____	_____