

SEMANA 21 – DEL 17 AL 21 DE AGOSTO

GUÍA DE MATEMÁTICA, 2020.



OA 7: Demostrar que comprenden la relación entre la adición y la sustracción.

EM 18: Comparar las operaciones estudiadas en cuanto a su significado y a las propiedades utilizadas en los cálculos.

Habilidad: Resolver problemas creados o dados.

Docentes: María Soledad Peralta – Karina Olea – Maritza Palominos
Docente PIE y SEP: Catalina Gajardo – Claudia Zúñiga

Antes de comenzar con las actividades, recuerda:

- ✓ **Ubicarte en un espacio que sea cómodo y tranquilo para ti.**
- ✓ **Si te sientes cansado o fatigado ten a mano un vaso de agua, el cual te ayudará a oxigenar tu cerebro y pulmones.**
- ✓ **Realiza en todo momento ejercicios de respiración profunda, inhalando y exhalando siempre por tu nariz.**
- ✓ **Pídele a tus padres que te ayuden en las tareas y actividades que debas realizar.**

Recuerda que puedes descargar tus textos de estudio pinchando el siguiente link:

<https://www.curriculumnacional.cl/estudiante/621/w3-propertyname-822.html>



Cuando termines de realizar tu
guía, recuerda pegarla en tu
cuaderno de asignatura.

Pasos para resolver PROBLEMAS



Primero, leo atentamente el problema



Busco la pregunta y la subrayo de color azul




Rodeo o subrayo los datos de color rojo



Pienso qué operación debo realizar



Realizo la operación



Escribo la respuesta



1.- En un bus viajan 370 personas en el día y 320 en la noche.
¿Cuántos pasajeros viajan en total?

DATOS

De día viajan:

De noche viajan:

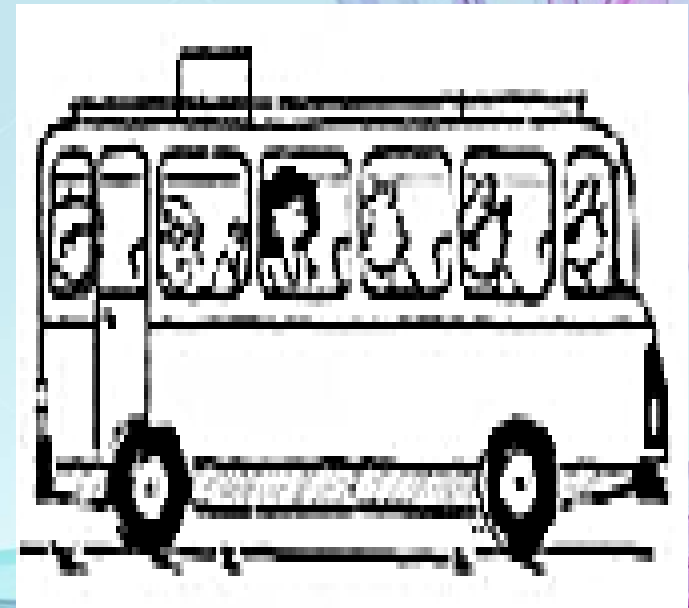
RESPUESTA

Viajan en total _____

Pasajeros.

Operatoria

	C	D	U
○			



2.- Mateo tenía ahorrado \$837 y gastó \$529 en un regalo.
¿Con cuánto dinero quedó Mateo después de su compra?

DATOS

Tenía:

Gastó:

RESPUESTA

Mateo se quedó con

\$ _____

Operatoria

C	D	U

○



3.- Amanda compró una caja de 679 manzanas, 243 manzanas salieron malas. ¿Cuántas manzanas estaban buenas en la caja?

DATOS

RESPUESTA

Operatoria



C	D	U





4.- En un gallinero hay 123 gallinas, 172 gallos y 30 pollitos.
¿Cuántas aves hay en total?

DATOS

RESPUESTA

Operatoria

C	D	U



5.- Mi mamá me regaló 351 bolitas y yo perdí 226.
¿Cuántas bolitas tengo ahora?

Operatoria

	C	D	U
○			

