



Evaluación Formativa de Educación Matemática Semana 9 1°Básico 2020

Docente Responsable: Magdalena Lara Silva

Nombres:		Apellidos:		RUN:	Curso: Letra:
Fecha:	60% de exigencia	Puntaje Maximo: 15 pts.	Puntaje Aprobatorio: 8 pts.	Puntaje Obtenido	Nota:

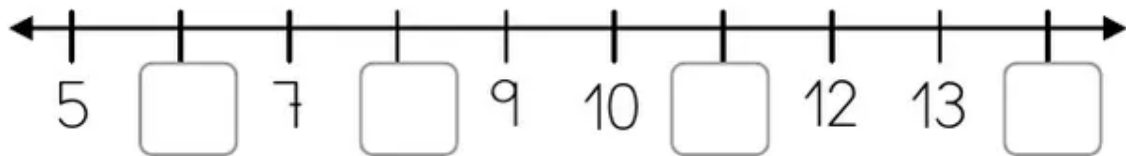
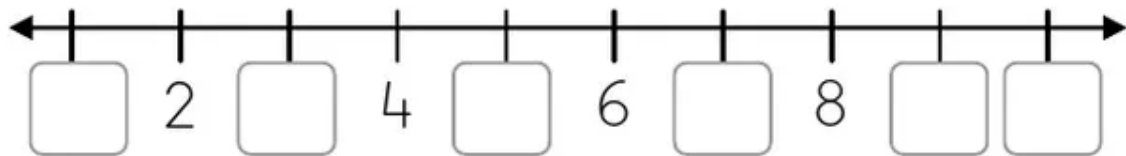
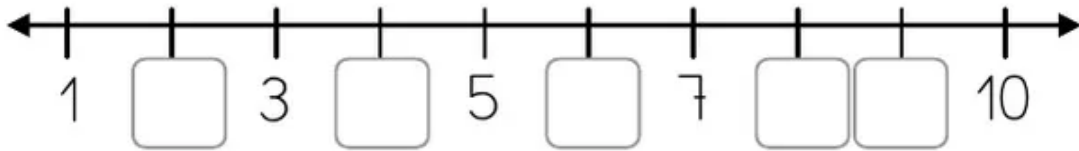
SEMANA DEL 25 al 29 de MAYO.

OA 1 Contar números de 1 en 1, hacia adelante, empezando por cualquier número.



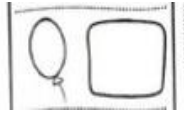


OA 3 Leer números del 0 al 20 y representarlos en forma concreta, pictórica y simbólica.

OA 4 Comparar y ordenar números del 0 al 20 de menor a mayor y/o viceversa.

1. Instrucción: Escribe los números que faltan.



2. Instrucción: Observa esta linda plaza. ¿Puedes ayudarme a contar cuántos hay?
 En la parte inferior aparecen los elementos que debes contar.

				
---	---	---	--	---


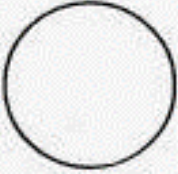


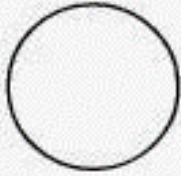


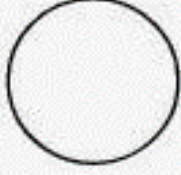




5	
---	--

3. Instrucción: Compara los siguientes números y ordénalos de Mayor a Menor.

11	8	4	9	15	7

3	
---	--

4. Instrucción: Compara los números y escribe en los círculos el signo que corresponde < >

4	
---	--

