



U.T.P

Guía N°1 de Matemática 2° Básico 2020  
Estudiantes Programa de Integración Escolar (P.I.E.)

**Profesoras Asignatura:** Paola Vargas – María José Bolbaran

**Educadoras P.I.E:** Paula Guirin Fuenzalida – Fernanda López Droguett.

<b>NOMBRE:</b> .....	<b>APELLIDOS:</b> .....	<b>CURSO: 2°</b> .....	<b>FECHA:</b> .....
-------------------------	----------------------------	---------------------------	------------------------

Tiempo considerado: 60 Minutos

SEMANA 04 AL 08 DE MAYO.

**OBJETIVO:** Reconocer y escribir el numeral que describe la cantidad 200

**OA:** OA01 - OA03

**Estándar:** E.M 4.2

**Habilidad:** Representar, comunicar

**Contenido:** " Números al 140"

**ORIENTACIÓN PADRES Y APODERADOS:**

- La guía debe ser realizada con ayuda de un adulto.
- Si el alumno no comprende la instrucción, inténtalo nuevamente ocupando otra estrategia.
- Si es necesario puede utilizar algún material que tengas en casa que pueda ayudar, como lápices, porotos, etc.

**OBSERVA**

Numeración del 101 al 120:

101	102	103	104	105	106	107	108	109	110
111	112	113	114	115	116	117	118	119	120



1.- Completa la tabla con los números que falten:

**RECUERDA:** PUEDES APOLLARTE DE LA TABLA QUE ESTA EN LA HOJA N°1.

101					106			109	
		113				117			120

2.- Coloca el antecesor y el sucesor de los siguientes números:

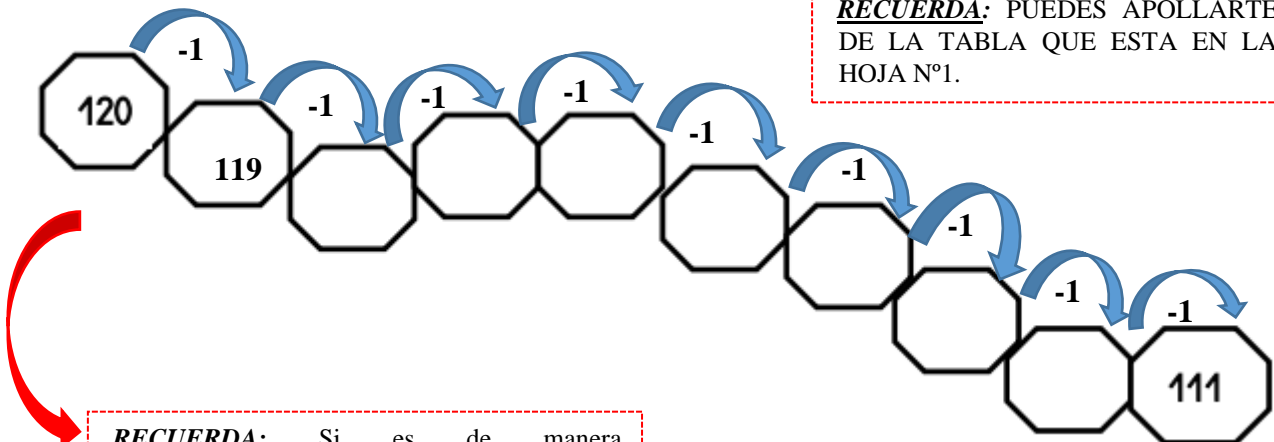
**EJEMPLO:**

ANTECESOR (Antes)		SUCESOR (Después)
116	117	118

	113	
	118	
	104	
	100	
	115	

3.- Completa la siguiente serie descendente:

**RECUERDA:** PUEDES APOLLARTE DE LA TABLA QUE ESTA EN LA HOJA N°1.



**RECUERDA:** Si es de manera **DESCENDENTE** demos ir **bajando** o **devolviéndonos**. También podemos ir **restándole** o **quintándole** 1 a cada número.

# OBSERVA

Numeración del 101 al 140:

101	102	103	104	105	106	107	108	109	110
111	112	113	114	115	116	117	118	119	120
121	122	123	124	125	126	127	128	129	130
131	132	133	134	135	136	137	138	139	140



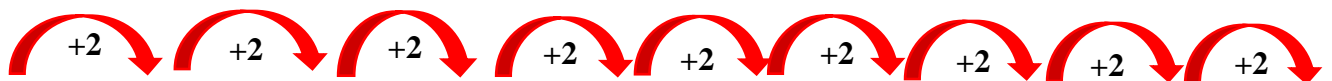
4.- Completa la tabla con los números que faltan:

**RECUERDA:** PUEDES APOLLARTE DE LA TABLA.

101									
				115					
									130
					136				

5.- Cuenta de 2 en 2 hasta llegar al 140:

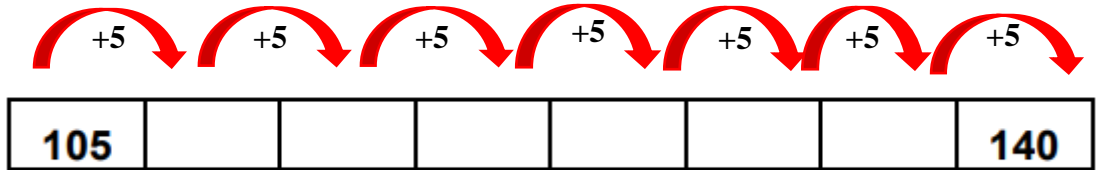
**RECUERDA:** Si es de 2 en 2 podemos ir sumándole o agregándole 2 a cada número.



102									120
				130					140

6.- Cuenta de 5 en 5 hasta llegar al 140

**RECUERDA:** Si es de 5 en 5 podemos ir sumándole o agregándole 5 a cada número.



7.- Escribe con números:

Cien: \_\_\_\_\_

Ciento treinta y dos: \_\_\_\_\_

Ciento veintiuno: \_\_\_\_\_

Ciento cuarenta: \_\_\_\_\_

Ciento Veinticinco: \_\_\_\_\_

**¡BUEN TRABAJO!**

