



Guía de aprendizaje n°5
5to Básico 2020
Historia, Geografía y Ciencias Sociales


Nombres:	Apellidos:	Curso:	FECHA Semana del 27 al 30 de Abril
--------------------------	----------------------------	------------------------	---

Tiempo considerado: 90 minutos

Objetivo: Retroalimentación de los objetivos.

Estándar de aprendizaje: Describir y comparar las grandes zonas geográficas y reconocer las macroformas del relieve chileno.

Recordaremos lo trabajado en la primera parte de la Unidad:



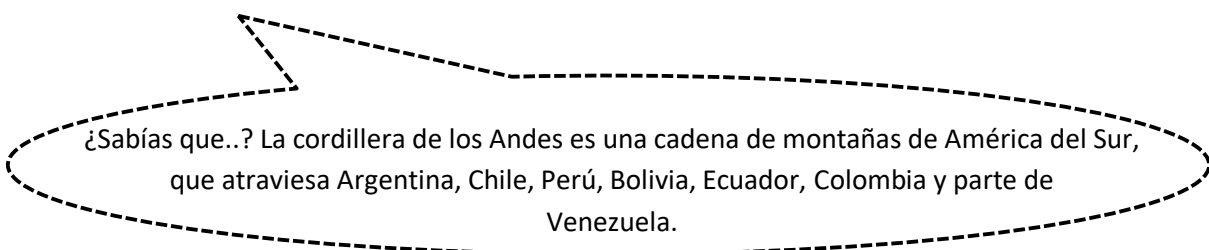
- 1.- Hicimos un tríptico eligiendo una zona natural de Chile, destacando sus riquezas naturales parques y las reservas nacionales.
- 2.- Describimos la Zona Central de Chile.
- 3.- Describimos la Zona Sur de Chile
- 4.- Comparamos la Zona Central y Zona Sur de Chile.
- 5.- Comparamos en un cuadro con ayuda de la página 18 y 20 las 4 macroformas del relieve chileno de la Zona Central y de la Zona Sur. Estas 4 macroformas son:
 - Cordillera de los Andes.
 - Depresión Intermedia.
 - Cordillera de la Costa.
 - Planicies Litorales.

RELIEVE DE CHILE

Nuestro territorio se caracteriza por tener un relieve accidentado y montañoso, poseer cuatro formas significativas de relieve, que se desarrollan en sentido norte-sur; estas son: la Cordillera de los Andes, Depresión Intermedia, Cordillera de la Costa y Planicies Litorales.

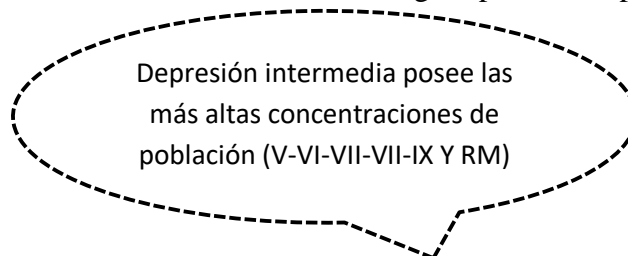
1.-Cordillera de los Andes

Se presenta a lo largo de todo el país como la principal macroforma del relieve chileno. Sus características cambian según el territorio en que la observemos.



2.-Depresión intermedia

Se extiende entre la Cordillera de la Costa y la Cordillera de los Andes. Es más árida en el norte y más fértil en el área austral. Su extensión continua facilita el asentamiento de gran parte de la población nacional.



3.- Cordillera de la Costa

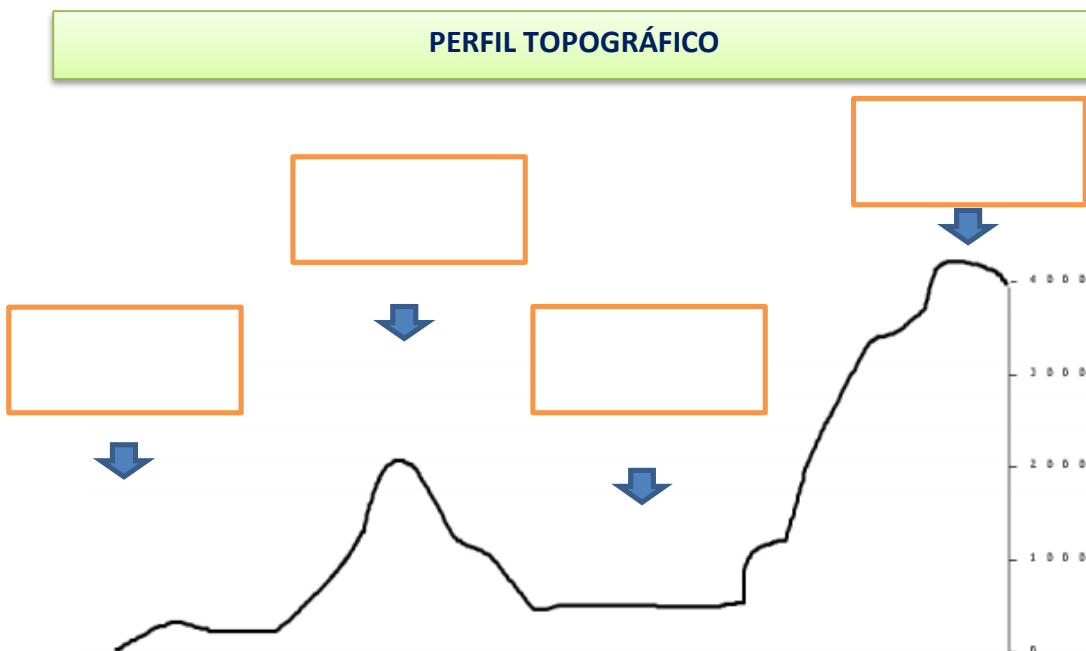
Se inicia en el sur de Arica. Forma una cadena montañosa alta y continua en el norte. En la zona central comienza a declinar en altitud. Al sur del BíoBío vuelve a aumentar levemente sus cimas, hasta que finalmente se hunde en los canales australes

4.- Planicies litorales

Están localizadas entre el Océano Pacífico y la Cordillera de la Costa, desde el límite norte del país hasta la isla de Chiloé hacia el sur. Son elevadas, muy estrechas, anchas en el norte chico e interrumpidas por acantilados en la zona central, muy anchas al sur de Chile.

ACTIVIDADES: Recordemos el **Relieve chileno**. (Si no dispones de la guía en forma física y es difícil imprimirla en casa debes escribir el objetivo de la clase en tu cuaderno. Este está al inicio de esta guía y puedes dibujar el perfil topográfico en tu cuaderno de Historia y seguir las instrucciones que se dan a continuación)

- 1.- Pinta en el perfil topográfico de color **ROJO** la Cordillera de los Andes.
- 2.- Pinta de color **VERDE** la Cordillera de la Costa.
- 3.- Marca con un **CÍRCULO AZUL** la Depresión Intermedia.
- 4.- Mara con un **CÍRCULO MORADO** las Planicies Litorales.
- 5.- En los recuadros escribe el nombre donde corresponda cada parte del relieve.



- 6.- Responde en tu cuaderno las preguntas de la página 19 y 21. (Escribe solo las respuestas) Si no dispones del texto de la Asignatura lo puedes descargar en Aprendo en Línea.