



GUÍA DE TRABAJO  
MATEMÁTICA 7° AÑOS

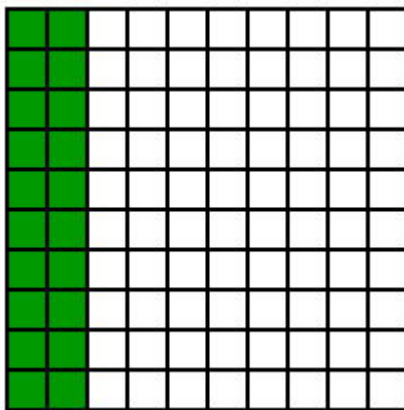
2

PROFESOR: PAOLA PIZARRO ZÚÑIGA

NOMBRE:

I.- A partir de cuadrículas como las ilustradas, escriban las razones y el valor decimal entre el número de cuadritos pintado y el total de cuadritos.

Observa el ejemplo.



Razón


Decimal

$$\frac{20}{100}$$

0,20

20 % representa la razón  $\frac{20}{100}$  y como ésta es una fracción, podemos dividir dicha fracción y obtenemos 0,2 que es la forma de escribir en número decimal 20%.


a) 25%



Razón

Decimal


b) 60%



Razón

Decimal


c) 15%



Razón

Decimal

d) 40%



Razón

Decimal