



TRABAJO  
MATEMÁTICA 7° AÑOS

2


PROFESOR: PAOLA PIZARRO ZÚÑIGA

NOMBRE: \_\_\_\_\_

1.- A partir de la cuadrículas como las ilustradas escriban las razones entre el número de cuadritos pintados y el total de cuadrados.




<p>a) Razón ____</p>	<p>b) Razón ____</p>	<p>c) Razón ____</p>

2.- observa la siguiente imagen y luego completa la tabla con los datos que te solicitan.



	Blanco	Negro	Plomo oscuro	Plomo claro
Porcentaje				
Razón				
Fracción				
Decimal				

3.- Pinta las cuadrículas y representen en ellas los porcentajes indicados.

<p>a.- 50%</p> 	<p>b.- 15%</p> 	<p>c.- 30%</p> 
--	--	--

4.- Completen el siguiente cuadro:

Porcentaje	Interpretación	Razón	Fracción	Fracción irreductible	Decimal
15%	15 de cada 100				
		$\frac{25}{100}$			
			$\frac{1}{8}$		
75%					
					0,20