



U.T.P.

Guía de aprendizaje matemática segundo básico

| | | | |
|---|----------------------------|-------------------------|--------------|
| Nombres: | Apellidos: | RUN: | |
| Curso: Letra: | Fecha: | Puntaje Obtenido | Nota: |

OBJETIVO: Identificar decenas y unidades

1.- Cuenta las unidades y decenas, luego escribe el número en el recuadro.

| | |
|----------------|-----------------|
| | |
| Decenas | Unidades |
| | |

| | |
|----------------|-----------------|
| | |
| Decenas | Unidades |
| | |

| | |
|----------------|-----------------|
| | |
| Decenas | Unidades |
| | |

| | |
|----------------|-----------------|
| | |
| Decenas | Unidades |
| | |

2.- Completa los ábacos según corresponda:

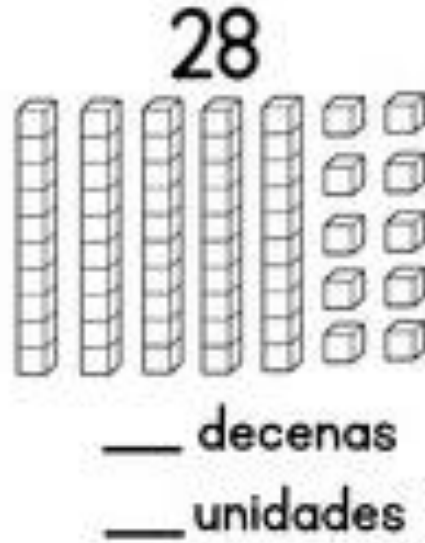
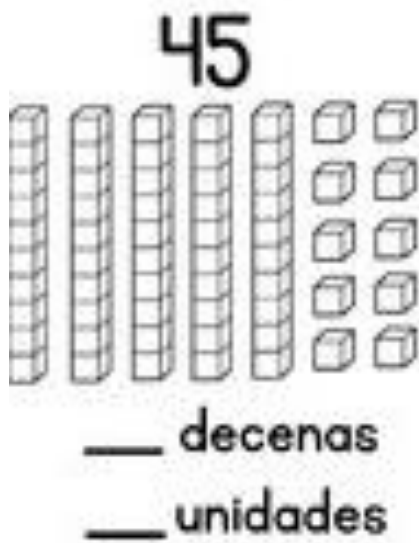
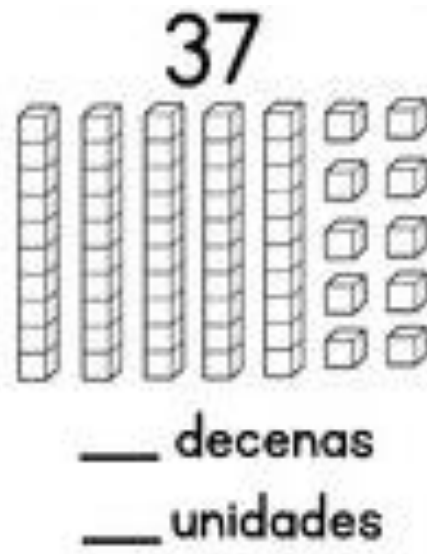
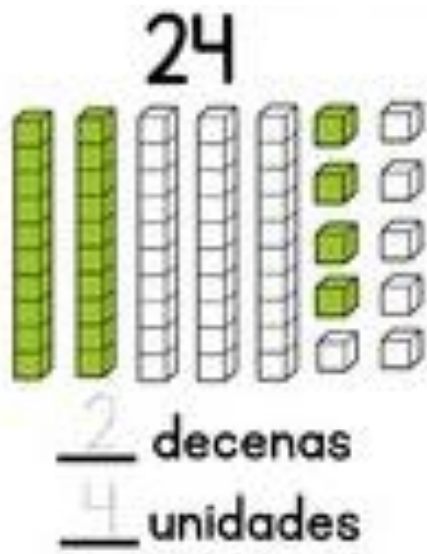
| | |
|---|---|
| | |
| D | U |
| 4 | 9 |

| | |
|---|---|
| | |
| D | U |
| 9 | 8 |

| | |
|---|---|
| | |
| D | U |
| 3 | 7 |

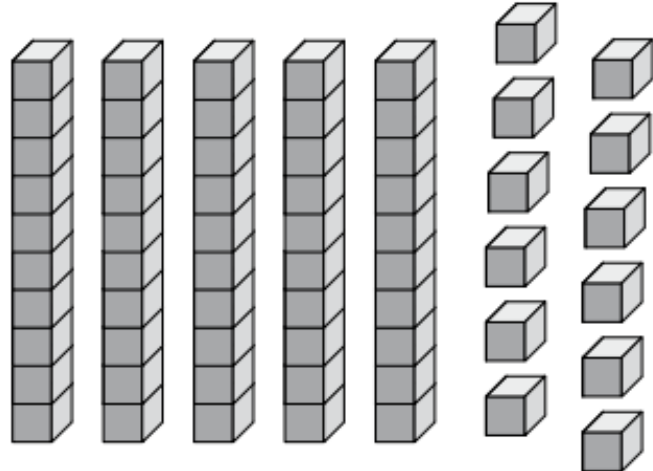
| | |
|---|---|
| | |
| D | U |
| 5 | 9 |

3.- Colorea los bloques y completa según corresponda.



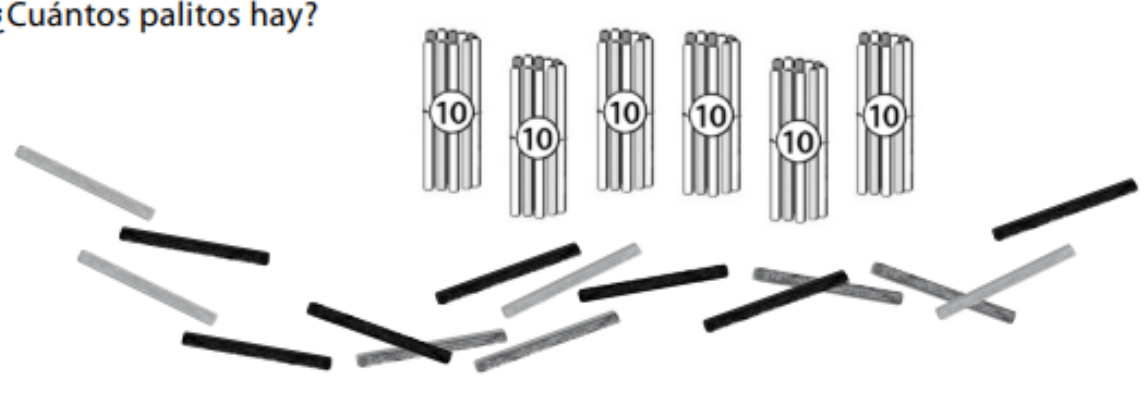
4.- Observa las imágenes completa con la cantidad correspondiente y escribe el número en palabras:

A.

| | |
|---|--|
| <p>¿Cuántos cubos hay?</p> <p>Respuesta: Hay cubos.</p> |  |
| <p>Escribe la cantidad en palabras:</p> <p>Hay cubos.</p> | |



B.

¿Cuántos palitos hay?







Respuesta: Hay + palitos. En total hay palitos.

C.

Una moneda de  equivale a 

¿Cuánto dinero hay?

| | |
|---|--|
|  <p>Hay \$</p> |  <p>Hay \$</p> |
|  <p>Hay \$</p> |  <p>Hay \$</p> |